

Fiche 1

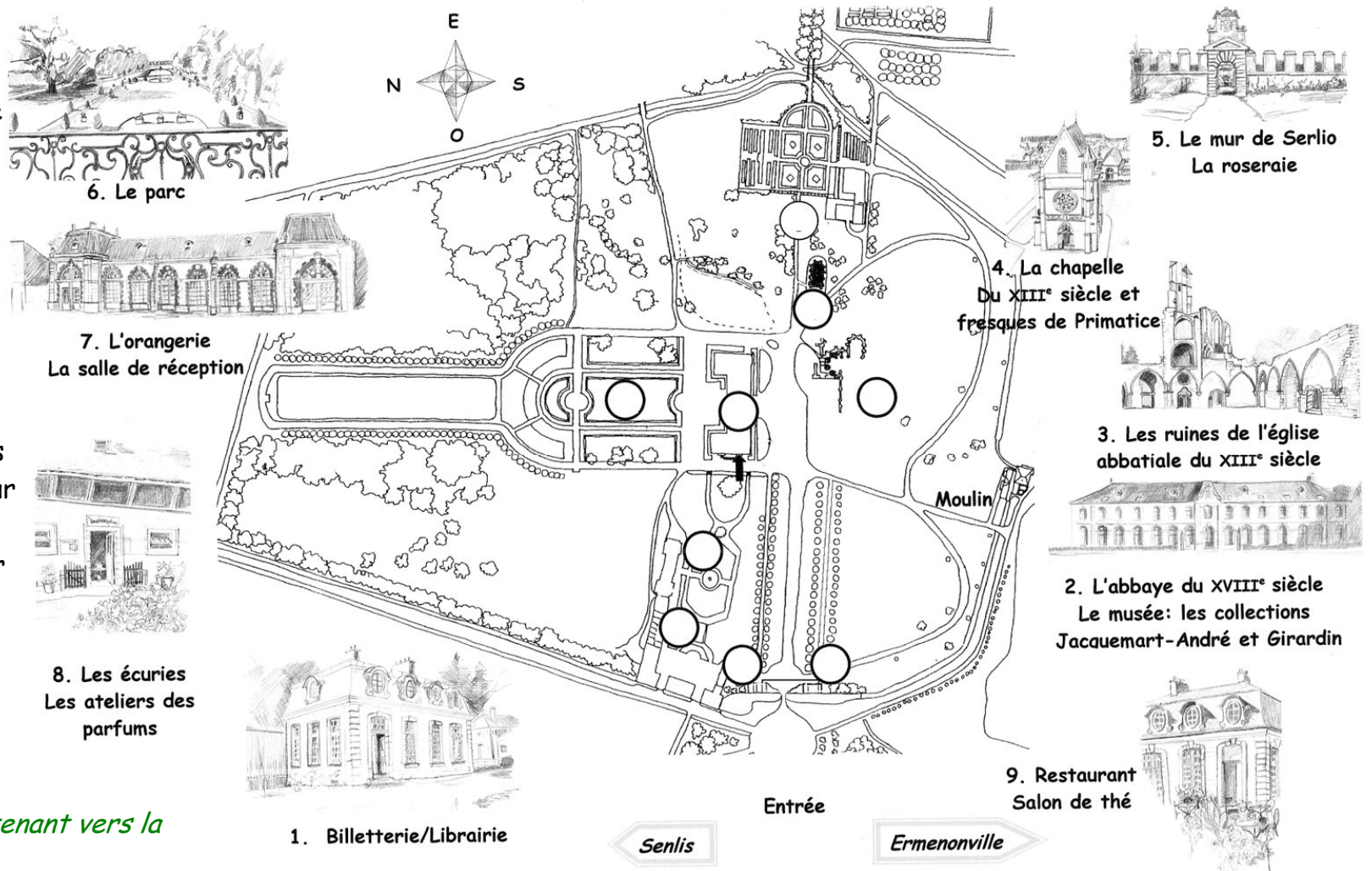
Arrivée, repérage sur un plan.

1. Indiquez à l'aide d'une flèche, l'endroit où vous vous trouvez.

• Vous entrez maintenant dans le domaine.

2. Retrouvez les différents bâtiments qui se trouvent autour de vous et indiquez leur emplacement sur le plan en notant les numéros aux bons endroits.

• Dirigez-vous maintenant vers la chapelle.



Le domaine de l'abbaye royale de Chaalis

Fiche 2 a
Devant la chapelle

1. Quels matériaux ont été utilisés pour construire cette chapelle ?

.....

2. Combien y a-t-il de portes ?

.....

3. Combien y a-t-il de fenêtres ?

.....

4. Comment s'appellent ce type de fenêtre ?

.....

5. À quoi servent les gargouilles ?

- À décorer
- À tenir la toiture
- À éviter que l'eau du toit ne coule sur les murs

6. Citez quatre animaux représentés sur les gargouilles.	
1	
2	
3	
4	

Fiche 2 b Devant la chapelle

Où se trouvent ces différents éléments ?

Le bouquet

.....

L'éléphant

.....


Les fleurs de lys

.....

L'escalier

.....

Reliez chaque photo à son emplacement sur le dessin.



Fiche 3
À l'intérieur de la chapelle

1. Que se passe t-il lorsque vous parlez ?

.....

2. Pourquoi ?

.....

3. Décrivez : a. Le sol :

b. Les murs :

c. Le plafond :

d. Un élément du mobilier :

4a. Sur le mur de la porte d'entrée (façade), qu'est ce qui a changé par rapport à l'extérieur ?

.....

4b. Pourquoi ?

5a : Que faisait-on ici ?

5b : Quels genres de personnages venaient dans ce lieu ?

6. Quel est le nom de cette chapelle ?

Fiche 4
À l'intérieur de la chapelle : les vitraux

1. À quoi servent les vitraux ?

2. Comment sont construits les vitraux ?

3. Quelles couleurs sont présentes sur les vitraux ?

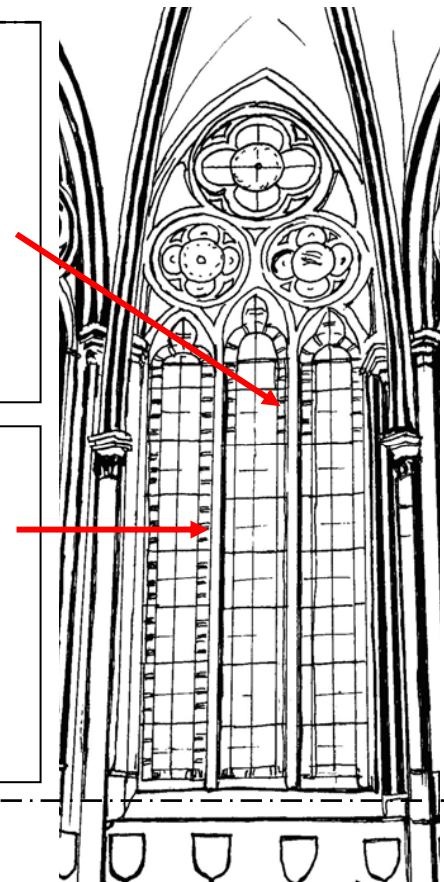
4. Que représentent les motifs peints en noir ?

5. Les fenêtres (baies) sont-elles de la même taille ?

6. Par 2. Comment sont disposées les fenêtres au décor identique ?

7. Qu'y a-t-il sous les vitraux ?

8. Reproduisez dans la case correspondante le motif indiqué par la flèche.
(Ne pas oublier les couleurs.)



Fiche 5
À l'intérieur de la chapelle : les blasons

1. Qui portait un blason ?

2. Pourquoi ?

3. Quelles sont les couleurs les plus utilisées ?


4. Citez deux animaux représentés sur les blasons ?

5. Que peut-on voir de part et d'autre des blasons ?

6. Reproduis dans le cadre ci-contre la forme générale des blasons.

7. Un blason est différent de tous les autres. Où se trouve-t-il ?

8. En quoi est-il différent



Fiche 6
À l'intérieur de la chapelle : la fresque

Trouvez un codage qui vous aidera, de retour en classe, à colorier la fresque en respectant les couleurs.

Reliez les noms et les Représentations sur le Dessin ci-contre

Marie

Dieu

L'archange Gabriel


La colombe

Un ange

Les hommes

La Bible

Les fleurs de lys



Fiche 7

À l'intérieur de la chapelle : les voûains

Quels sont les personnages représentés ?

.....

Quels animaux ?

.....

Quels objets ?

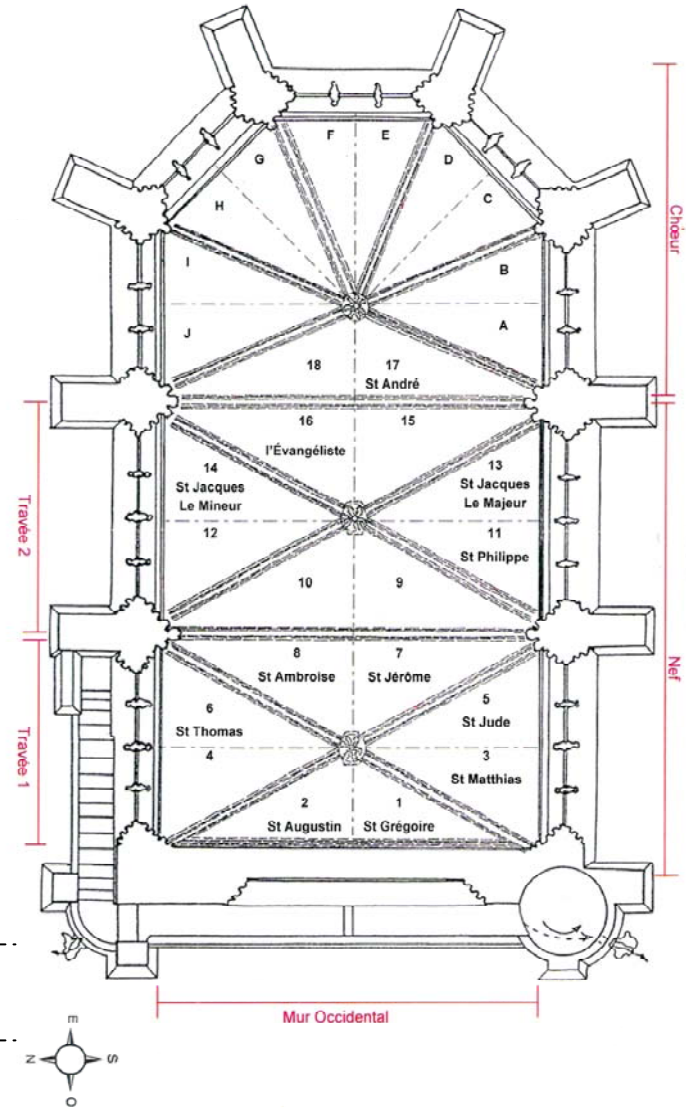
Retrouvez et placez sur le plan où indiquez le numéro

- Saint Luc : un taureau est à côté de lui
- Saint Simon : il a une scie
- Saint Pierre : il porte des clefs
- Saint Barthélemy : il a un poignard
- Saint Jean : il a un aigle près de lui.
- Saint Marc : il a le pied sur la tête d'un lion.
- Saint Matthieu : il est avec un ange.

Dans la chapelle, certains des personnages peints sur les fresques sont représentés autrement que par la peinture, pouvez-vous les reconnaître et indiquer leur emplacement ?

.....

.....



Fiche 8

À l'intérieur de la chapelle : le mobilier

Remettez chaque objet à sa place en indiquant son numéro sur le plan et retrouvez son nom



Pierre tombale



Tabernacle



Lavabos



Blason

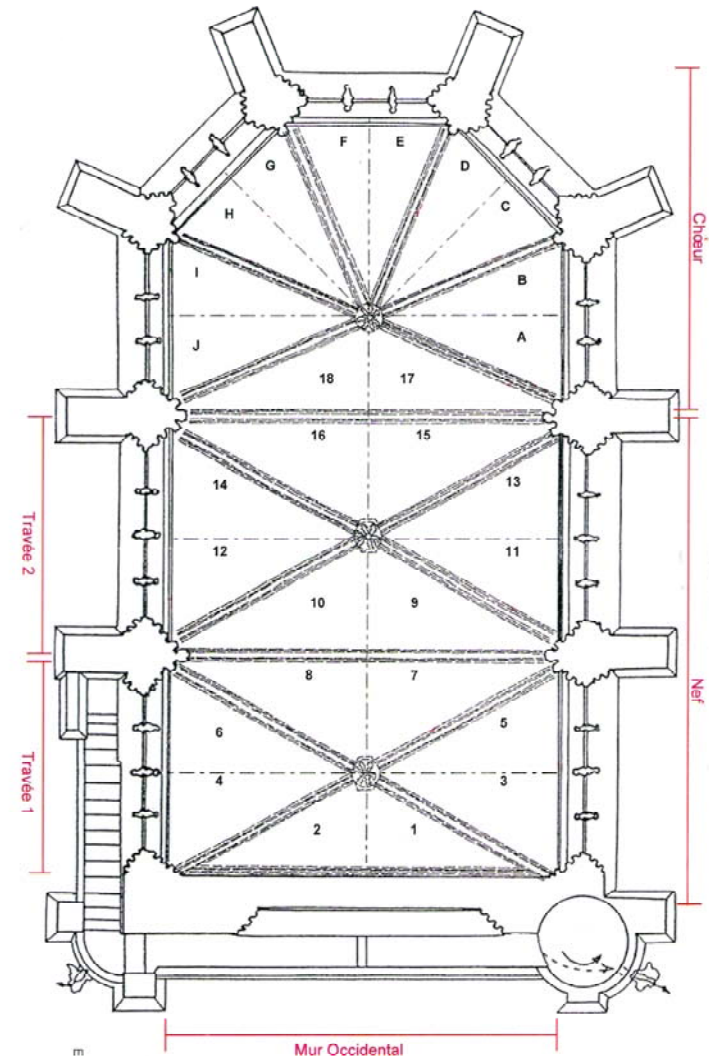


Tombeau

Donnez le nom de la femme sculptée sur le tombeau ?

Pourquoi son tombeau se trouve t-il dans la chapelle ?

.....





Fiche 9 Annonciation

À gauche, une enluminure médiévale d'un manuscrit d'un moine de Chaalis (XIV^e siècle).

À droite, fresques Renaissance de Primatice dans la chapelle Sainte-Marie de l'abbaye de Chaalis.



Personnages	Annonciation médiévale	Annonciation Chaalis
Combien de personnages dans chaque document ?		
Quelles sont les quatre principales représentations communes aux deux documents ?		
Que fait le personnage 1 :		
Que fait le personnage 2 :		
Que fait le personnage 3 :		
Que fait le personnage 4 :		
Écrivez le texte inscrit sur le premier document		
Décrivez le fond de l'image.		